

Activité 1

Lou s'amuse à ouvrir et fermer son ordinateur portable. Elle a pris des photographies de son écran dans différentes positions.



Photo 1



Photo 2




Photo 3




Photo 4




Photo 5




Photo 6

1) Sur quelle photographie son ordinateur est-il le plus ouvert ?

.....

2) Sur quelle photographie son écran d'ordinateur forme-t-il l'angle le plus petit ? Quelle est la nature de cet angle ?

.....

3) Sur quelle photographie son écran d'ordinateur forme-t-il l'angle le plus ouvert ? Quelle est la nature de cet angle ?

.....

4) Range ces photographies de l'écran le plus fermé à l'écran le plus ouvert.

.....

5) Lou pense que, si elle prend un ordinateur portable avec un écran plus grand, les angles seront alors plus grands. A-t-elle raison ?

.....

Bilan vocabulaire d'un angle :